



الأسئلة

أولاً : الجغرافيا

س ١ : أكمل العبارات الآتية

- ١ - قسم العلماء سطح الأرض إلى حتى يسهل عليهم دراسة المناخ .
- ٢ - تقل الحرارة درجة مئوية كلما أرتفعنا متر عن مستوى سطح البحر .
- ٣ - تحدث نتيجة اختلاف الحرارة على اليابس و الماء أثناء الليل والنهار.
- ٤ - يحدث المطر نتيجة اصطدام الرياح المحملة ببخار الماء بالمرتفعات.
- ٥ - هو وصف حالة الجو خلال فترة زمنية قصيرة .
- ٦ - هو وصف حالة الجو خلال فترة زمنية طويلة .
- ٧ - عناصر المناخ هى و و
- ٨ - يتميز الأقليم الإستوائى بأن أمطاره طول العام .
- ٩ - يمتاز إقليم البحر المتوسط بأنه صيفا و شتاء .
- ١٠ - الرياح تنقسم إلى و و و
- ١١ - معرفة حالة الجو فى فترة زمنية قصيرة قد تكون يوم إلى أسبوع
- ١٢ - معرفة حالة الجو فى فترة زمنية طويلة شهرا أو فصلا أو سنه
- ١٣ - من أنواع الرياح الدائمة و و
- ١٤ - تعتبر هى أهم عناصر المناخ .
- ١٥ - ترتفع درجة الحرارة عند دائرة الأستواء لأن أشعة الشمس تكون
- ١٦ - تمتد المنطقة الحارة بين مدار ومدار
- ١٧ - تهب الرياح التجارية من دائرة عرض ش ، ج وتتجه صوب خط



الدراسات الإجتماعية

الصف الأول الإعدادى

- ١٨ - يسقط المطر التصاعدى على المنطقة
- ١٩ - تتميز الصحراء الكبرى بأنها المطر .
- ٢٠ - الفرق بين درجة حرارة الليل و النهار يسمى وبين درجة حرارة الصيف والشتاء يسمى
- ٢١ - يسود الاقليم فى معظم أنحاء مصر .
- ٢٢ - تهب الرياح القطبية من منطقة الضغط المرتفع عند متجهة إلى منطقة الضغط عند الدائرتين القطبيتين الشمالية والجنوبية .
- ٢٣ - الغابات تخلص الأرض من الملوثات من خلال إمتصاصها
- ٢٤ - نتج عن إزالة الانسان للغابات حدوث خلل فى
- ٢٥ - غابات البحر المتوسط أشجارها الخضرة ، تتحمل
- ٢٦ - الغابات الصنوبرية غابات دائمة
- ٢٧ - من أنواع الطيور والحيوانات فى الغابات النفضية ، ، ،
- ٢٨ - الحشائش طويلة تختلف فى طولها وكثافتها حسب كمية المطر
- ٢٩ - الحشائش المعتدلة تصلح كمراعى طبيعية لـ و
- ٣٠ - النباتات تتحمل ظروف الجفاف وشدة المناخ .
- ٣١ - تعيش الفيلة فى بينما يعيش الجمل فى

س٢ :- بم تفسر:

- ١ - تعتبر الحرارة أهم عناصر المناخ .
- ٢ - تتميز الأماكن القريبة من دائرة الأستواء بارتفاع درجة حرارتها .
- ٣ - يغطى الجليد قمم الجبال العالية بالرغم من وقوعها فى المنطقة الحارة .
- ٤ - تلطف الرياح التجارية من درجة حرارة المناطق التى تهب عليها .
- ٥ - الرياح الموسمية الصيفية رياح ممطرة .

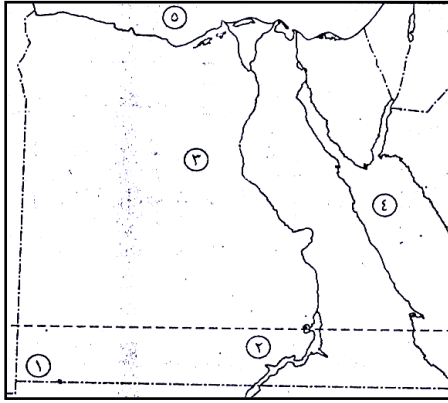


الدراسات الإجتماعية

الصف الأول الإعدادي

- ٦ - تقسيم العلماء الأرض إلى أقاليم مناخية .
- ٧ - سقوط الامطار صيفاً على الاقليم المسمى .
- ٨- يتميز الاقليم الصحراوى بأنه حار صيفاً وشديد البرودة شتاءً .
- ٩- ارتفاع الحرارة طوال العام بالاقليم الاستوائى .
- ١٠- تنوع النبات الطبيعى على سطح الأرض .
- ١١- أهمية الغابات لتقليل التلوث .
- ١٢- سقوط الأمطار طوال العام على الاقليم المعتدل البحرى .
- ١٣- انخفاض درجة الحرارة فى الاقليم اللورانسى شتاءً .
- ١٤- تعتبر السافانا حديقة حيوان طبيعية .

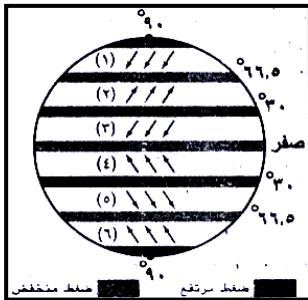
الخرائط



اكتب ما تدل عليه الأرقام

(٢) أمامك شكل تخطيطى للكورة الأرضية موضح عليه

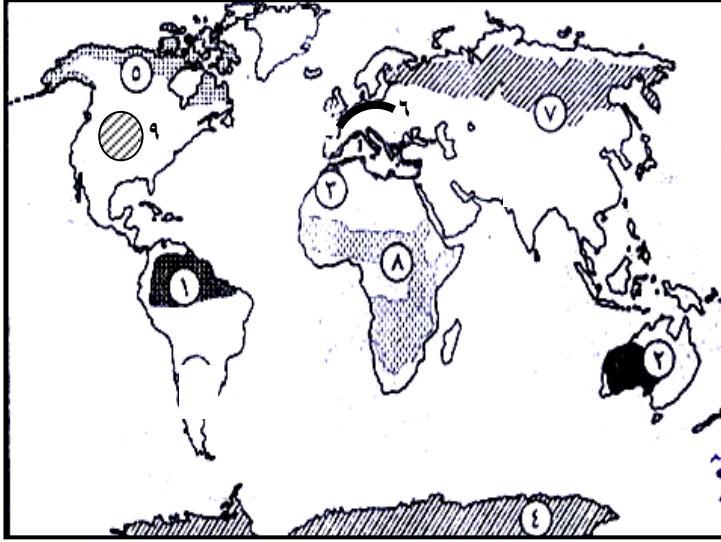
توزيع الرياح الدائمة ، اكتب ما تدل عليه الأرقام التى عليه :



- | | |
|----------------|----------------|
| رياح (١) | رياح (٢) |
| رياح (٣) | رياح (٤) |
| رياح (٥) | رياح (٦) |



(٣) أمامك خريطة صماء للعالم ، اكتب ما تدل عليه الأرقام الآتية :



- (١) إقليم مناخى
- (٢) إقليم مناخى
- (٣) إقليم مناخى
- (٤) إقليم مناخى
- (٥) إقليم نباتى
- (٦) غابات
- (٧) غابات
- (٨) حشائش
- (٩) حشائش



ثانياً : التاريخ

السؤال الأول : أكمل العبارات الآتية :

- ١ – من أدوات الزينة عند المصريين القدماء و و
- ٢ – تنقسم الأعياد إلى و و و و
- ٣ – تميز القصر الفرعونى بـ
- ٤ – انقسم المجتمع المصرى القديم إلى طبقات
- ٥ – طبقات المجتمع هى
- ٦ – حياة إجتماعية
- ٧ – بنى المصري القديم مسكنه من
- ٨ – من الأعياد المهمة عند الفراعنة ، ، ،
- و
- ٩ – صنع المصرى القديم ملابسه من و استورد الحرير من
- ١٠ – عرف المصرى القديم الأغاني و و
- ١١ – الكتابة التى استخدمت فى تسجيل النصوص الدينية فى مصر هى
- ١٢ – قصة سنوحى من الأدب
- ١٣ – من أشهر حكماء مصر القديمة الحكيم
- ١٤ – الخط الرسمى للدولة فى مصر القديمة هو الخط
- ١٥ – استخدم المصرى القديم فى الكتابة ورق
- ١٦ – من أنواع الأدب الدينى و و
- ١٧ – يتناول الأدب الدينى و و
- ١٨ – يتضمن الأدب القصصى بعض القصص و



الدراسات الإجتماعية

الصف الأول الإعدادى

- ١٩- من أشهر المعابد الجنائزية و
- ٢٠- مقبرة الملكة من أجمل المقابر التى توضح التصوير على الجدران .
- ٢١ - عرف المصريين القدماء التقويم بدلا من
- ٢٢ - قسم المصريين القدماء العام إلى فصول زراعية
- ٢٣ - برع المصريون القدماء في فن للمحافظة على جثث الموتى .
- ٢٤ - آخر مرحلة من مراحل بناء المقابر الملكية بناء كامل
- ٢٥ - أيام هى آخر خمسة أيام فى السنة اعتبرها المصرى القديم ويبدأ بعدها عام جديد .
- ٢٦ - استخدم المصريين القدماء علم الكيمياء فى و و

السؤال الثانى : بم تفسر

- (١) تسمية المجتمع المصرى القديم بالمجتمع الطبقي الهرمى الشكل .
- (٢) تسمية الكتابة الهيروغليفية بالخط المقدس .
- (٣) اهتمام المصريين القدماء بالأدب التهذيبى .
- (٤) اهتمام قدماء المصريين بعلم التحنيط .
- (٥) احتلت المرأة فى مصر القديمة مكانة هامة فى الأسرة .
- (٦) اختلاف الملابس فى مصر الفرعونية .
- (٧) حرص الأباء على تعليم أبنائهم فى مصر القديمة .
- (٨) إبداع المصرى القديم فى مجال الأدب .
- (٩) وضع الكتابات الدينية مع الميت .
- (١٠) إهتمام المصرى القديم بعلم الحساب .
- (١١) براعة الفراعنة فى التحنيط والفنون والعمارة .
- (١٢) تقدم المصريين فى علم الطب .



الدراسات الإجتماعية

الصف الأول الإعدادى

السؤال الثالث :- أكمل العبارات الآتية :

- ١ - وقعت مصر تحت سيطرة ، ، قبل مجئ الاسكندر الأكبر.
- ٢ - ولد الإسكندر الأكبر فى إقليم بشمال بلاد اليونان .
- ٣ - تولى الأسكندر الحكم وهو فى سن من عمره .
- ٤ - ظلت مصر تحت حكم الفرس حتى عام ق.م
- ٥ - قام الأسكندر بزيارة معبد الإله فى منف و الإله فى واحة سيوة .

السؤال الرابع : بم تفسر

- ١- ترحيب المصريين بالأسكندر الأكبر .
- ٢- زيارة الأسكندر لمعبدى بتاح وأمون .
- ٣- يلقب الأسكندر الأكبر بهذا الاسم .
- ٤- تأسيس الأسكندر الأكبر لمدينة الإسكندرية .
- ٥- اتجاه معظم الدول فى العصر القديم لإحتلال مصر .
- ٦- تميز الأسكندر بالقدرة على القيادة .



الإجابات

أولاً : الجغرافيا

س ١ : اكمل العبارات الآتية

- ١ - قسم العلماء سطح الأرض إلى أقاليم مناخية حتى يسهل عليهم دراسة المناخ .
- ٢ - تقل الحرارة ١ درجة مئوية كلما أرتفعنا ١٥٠ متر عن مستوى سطح البحر .
- ٣ - تحدث الرياح اليومية نتيجة اختلاف الحرارة على اليابس و الماء أثناء الليل و النهار.
- ٤ - يحدث المطر التضاريسى نتيجة اصطدام الرياح المحملة ببخار الماء بالمرتفعات.
- ٥ - الطقس هو وصف حالة الجو خلال فترة زمنية قصيرة .
- ٦ - المناخ هو وصف حالة الجو خلال فترة زمنية طويلة .
- ٧ - عناصر المناخ هى الحرارة و الضغط و الرياح و الأمطار
- ٨ - يتميز الأقاليم الإستوائى بأن أمطاره غزيرة طول العام
- ٩ - يمتاز إقليم البحر المتوسط بأنه حار جاف صيفا و دفيء ممطر شتاء .
- ١٠ - الرياح تنقسم إلى دائمة و موسمية و محلية و يومية
- ١١ - معرفة حالة الجو فى فترة زمنية قصيرة قد تكون يوم إلى أسبوع الطقس
- ١٢ - معرفة حالة الجو فى فترة زمنية طويلة شهرا أو فصلا أو سنه المناخ
- ١٣ - من أنواع الرياح الدائمة تجارية و عكسية و قطبية .
- ١٤ - تعتبر الحرارة هى أهم عناصر المناخ .
- ١٥ - ترتفع درجة الحرارة عند دائرة الأستواء لأن أشعة الشمس تكون عمودية
- ١٦ - تمتد المنطقة الحارة بين مدار السرطان و مدار الجدي
- ١٧ - تهب الرياح التجارية من دائرة عرض ٣٠° ش ، ج وتتجه صوب دائرة الأستواء
- ١٨ - يسقط المطر التصاعدى على المنطقة الأستوائية
- ١٩ - تتميز الصحراء الكبرى بأنها نادرة المطر .



الدراسات الإجتماعية

الصف الأول الإعدادى

- ٢٠ - الفرق بين درجة حرارة الليل والنهار يسمى المدى الحرارى اليومى وبين درجة حرارة الصيف والشتاء يسمى المدى الحرارى السنوى.
- ٢١ - يسود الاقليم المدارى الحار فى معظم انحاء مصر .
- ٢٢ - تهب الرياح القطبية من منطقة الضغط المرتفع عند القطبين متجهة إلى منطقة الضغط المنخفض عند الدائرتين القطبيتين الشمالية والجنوبية .
- ٢٣ - الغابات تخلص الأرض من الملوثات من خلال إمتصاصها للكربون .
- ٢٤ - نتج عن إزالة الانسان للغابات حدوث خلل فى النظام البيئى
- ٢٥ - غابات البحر المتوسط أشجارها دائمة الخضرة ، تتحمل الجفاف .
- ٢٦ - الغابات الصنوبرية غابات دائمة الخضرة .
- ٢٧ - من أنواع الطيور والحيوانات فى الغابات النفضية الطيور ، السنجاب ، القطط ، ال
- ٢٨ - الحشائش الحارة طويلة تختلف فى طولها وكثافتها حسب كمية المطر
- ٢٩ - الحشائش المعتدلة تصلح كمراعى طبيعية لـ الأغنام و الماشية
- ٣٠ - النباتات الصحراوية تتحمل ظروف الجفاف وشدة المناخ .
- ٣١ - تعيش الفيلة فى السافانا بينما يعيش الجمل فى الصحراء

س٢:- بما تفسر:

- ١ - تعتبر الحرارة أهم عناصر المناخ
- لأنها تؤثر فى باقى عناصر المناخ وتختلف من مكان لآخر .
- ٢ - تتميز الأماكن القريبة من دائرة الأستواء بارتفاع درجة حرارتها لأن أشعة الشمس تكون عمودية على دائرة الأستواء ومائلة كلما ابتعدنا عنه .
- ٣ - يغطى الجليد قمم الجبال العالية بالرغم من وقوعها فى المنطقة الحارة بسبب عامل الارتفاع فكما أرتفعنا ١٥٠ متر عن سطح البحر تقل الحرارة ١ درجة واحدة مئوية .
- ٤ - تلطف الرياح التجارية من درجة حرارة المناطق التى تهب عليها .
- لأنها تأتى من مناطق أقل حرارة إلى مناطق أكثر حرارة



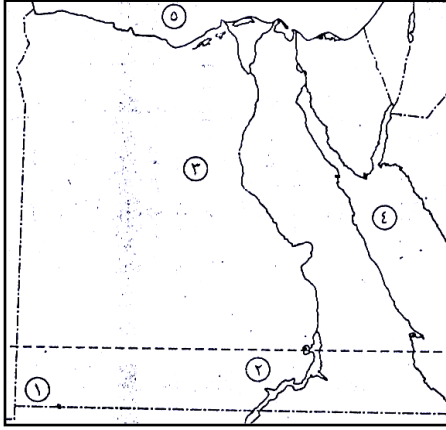
الدراسات الإجتماعية

الصف الأول الإعدادي

- ٥ - الرياح الموسمية الصيفية رياح ممطرة .
لأنها تهب من الماء إلى اليابس فتكون محملة ببخار الماء .
- ٦ - تقسيم العلماء الأرض إلى أقاليم مناخية .
حتى يسهل دراسة المناخ على سطح الأرض .
- ٧ - سقوط الأمطار صيفاً على الاقليم المسمى .
بسبب هبوب الرياح الموسمية الصيفية الممطرة فى فصل الصيف .
- ٨- يتميز الاقليم الصحراوى بأنه حار صيفاً وشديد البرودة شتاءً .
لأن المدى الحرارى اليومى والسنوى الكبير .
- ٩- ارتفاع الحرارة طوال العام بالاقليم الاستوائى .
لأنه يمتد على جانبى دائرة خط الاستواء فيما بين دائرتى عرض ١٠° و ١٠° شمال وجنوب دائرة الاستواء .
- ١٠- تنوع النبات الطبيعى على سطح الأرض .
بسبب تنوع درجات الحرارة - اختلاف كميات المطر .
- ١١- أهمية الغابات لتقليل التلوث .
لأن الغابات تخلص الأرض من الملوثات وتحافظ على التوازن البيئى من خلال امتصاصها لثانى أكسيد الكربون .
- ١٢- سقوط الأمطار طوال العام على اقليم غرب أوروبا .
بسبب وقوعه فى نطاق الرياح العكسية الغربية .
- ١٣- انخفاض درجة الحرارة فى الاقليم المعتدل البارد شرق القارات .
بسبب امتداده بين دائرتى عرض ٤٥° ، ٦٠° شمال شرق القارات .
- ١٤- تعتبر السافانا حديقة حيوان طبيعية .
لأنه يعيش بها :
 - ١- حيوانات أكلة العشب مثل الغزلان - الزراف - الفيلة .
 - ٢- حيوانات أكلة اللحوم مثل الأسود والتمور والضباع

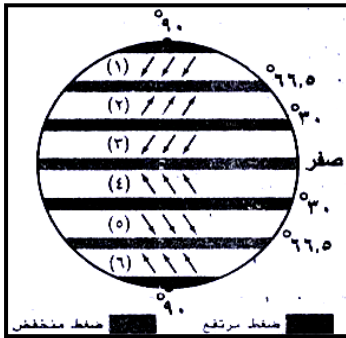


الخرائط



أكتب ما تدل عليه الأرقام

- ١- دائرة عرض (٢٢)
- ٢- مدار السرطان
- ٣- الصحراء الغربية
- ٤- البحر الأحمر
- ٥- البحر المتوسط

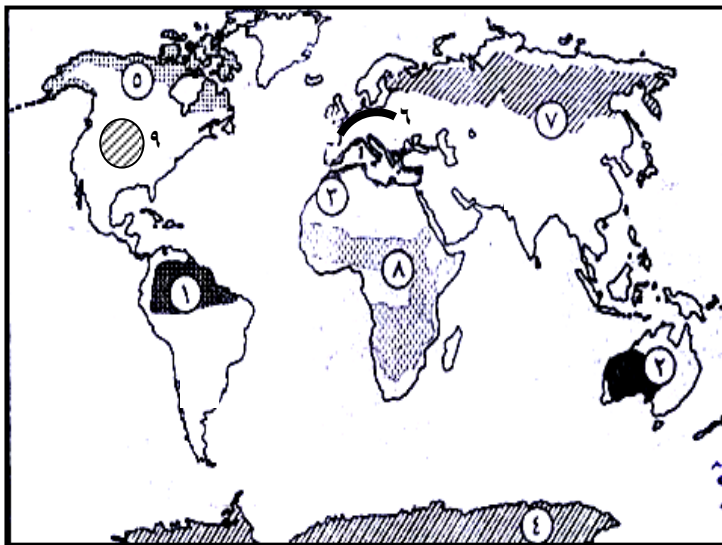


(٢) أمامك شكل تخطيطي للكرة الأرضية موضح عليه

توزيع الرياح الدائمة ، اكتب ما تدل عليه الأرقام التى عليه :

- ١) رياح قطبية شمالية
- ٢) رياح عكسية شمالية
- ٣) رياح تجارية شمالية
- ٤) رياح تجارية جنوبية
- ٥) رياح عكسية جنوبية
- ٦) رياح قطبية جنوبية

(٣) أمامك خريطة صماء للعالم ، اكتب ما تدل عليه الأرقام الآتية :



- ١) إقليم مناخى استوائى
- ٢) إقليم مناخى صحراوى
- ٣) إقليم مناخى البحر المتوسط
- ٤) إقليم مناخى البارد (التندرا)
- ٥) إقليم نباتى تندرا
- ٦) غابات معتدلة باردة (نفضية)
- ٧) غابات الصنوبرية
- ٨) حشائش السافانا
- ٩) حشائش الاستبس



ثانياً : التاريخ

السؤال الأول:- أكمل العبارات الآتية

- ١- من أدوات الزينة عند المصريين القدماء العقود و الأساور و الكحل
- ٢- تنقسم الأعياد إلى دينية و اجتماعية و اقتصادية و عسكرية و سياسية
- ٣- تميز القصر الفرعونى بـ العلو و الفخامة و الإتساع
- ٤- انقسم المجتمع المصرى القديم إلى ٤ طبقات
- ٥- طبقات المجتمع هى الفئات التى يتكون منها المجتمع و العلاقات السائدة بينها
- ٦- حياة إجتماعية مجموعة من العادات و التقاليد التى تتمسك بها طبقات الشعب فى المجتمع
- ٧- بنى المصري القديم مسكنه من الطوب اللبن
- ٨- من الأعياد المهمة عند الفراعنة عيد الربيع - عيد رأس السنة - عيد الإله آمون - عيد الإله أوزيريس - عيد جلوس فرعون على العرش - عيد الحصاد
- ٩- صنع المصرى القديم ملابسه من الكتان واستورد الحرير من فينيقيا "سوريا" حالياً
- ١٠- عرف المصرى القديم الأغاني الوطنية و الشعبية و الدينية
- ١١- الكتابة التى استخدمت فى تسجيل النصوص الدينية فى مصر هى الهيروغليفية
- ١٢- قصة سنوحى من الأدب القصصى
- ١٣- من أشهر حكماء مصر القديمة الحكيم بتاح حتب - الحكيم أنى
- ١٤- الخط الرسمى للدولة فى مصر القديمة هو الخط المقدس (الكتابة الهيروغليفية)
- ١٥- استخدم المصرى القديم فى الكتابة ورق البردى
- ١٦- من أنواع الأدب الدينى نصوص الأهرام و كتاب الموتى و أناشيد اخناتون و الأساطير الدينية
- ١٧- يتناول الأدب الدينى الحياة بعد الموت و عقيدة البعث و الخلود
- ١٨- يتضمن الأدب القصصى بعض القصص الحقيقية و الخرافية
- ١٩- من أشهر المعابد الجنائزية الرمسيوم و معبد حتشبسوت .



الدراسات الإجتماعية

الصف الأول الإعدادي

- ٢٠- مقبرة الملكة **نفرتارى** من أجمل المقابر التى توضح التصوير على الجدران .
- ٢١- عرف المصريين القدماء التقويم **الشمسى** بدلا من **القمرى** .
- ٢٢- قسم المصريين القدماء العام إلى **٣** فصول زراعية .
- ٢٣- برع المصريون القدماء في فن **التحنيط** للمحافظة على جثث الموتى .
- ٢٤- آخر مرحلة من مراحل بناء المقابر الملكية بناء **هرم** كامل .
- ٢٥- أيام **النسيء** هى آخر خمسة أيام فى السنة أعتبرها المصري القديم **أعياد** ويبدأ بعدها عام جديد .
- ٢٦- استخدم المصريون القدماء علم الكيمياء فى **التحنيط** و **العقاقير (الأدوية)** و **الأصبغ**

السؤال الثانى : بم تفسر

- (١) تسمية المجتمع المصرى القديم بالمجتمع الطبقي الهرمى الشكل .
- لأن المجتمع المصرى تكون من عدة طبقات على شكل هرم وهى الطبقة العليا للدولة ويمثلها الفرعون وأسرته وطبقة كبار رجال الدولة ويمثلها الوزراء وكبار الكهنة والكتبة وحكام الأقاليم والطبقة الوسطى ويمثلها صغار الموظفين والتجار وأصحاب الحرف المتميزون والطبقة الدنيا ويمثلها عمال الزراعة والحرفيون والرعاة .
- (٢) تسمية الكتابة الهيروغليفية بالخط المقدس .
- لأنها استخدمت فى النقش على جدران المعابد والمقابر وتسجيل النصوص الدينية .
- (٣) اهتمام المصريين القدماء بالأدب التهذيبى .
- لأن الأدب التهذيبى أدب الحكم والنصائح والسلوك والتربية والأخلاق فهو يتناول التعاليم والوصايا التى تهدف إلى الموعظة والنصح .
- (٤) اهتمام قدماء المصريين بعلم التحنيط .
- بسبب رغبتهم فى المحافظة على حيث موتاهم لاعتقادهم فى فكرة البعث والخلود .
- (٥) احتلت المرأة فى مصر القديمة مكانة هامة فى الأسرة .
- ١ - تشرف على شئون البيت من تنظيف وترتيب وطهى .
- ٢ - تتولى تربية الصغار .
- ٣ - تساعد زوجها فى بعض الأعمال .
- ٤ - لها الحق فى الوراثة والشهادة والتعاقد والبيع والشراء .



الدراسات الإجتماعية

الصف الأول الإعدادي

(٦) اختلاف الملابس فى مصر الفرعونية .

لإختلاف طبقات المجتمع حسب الظروف المعيشية فكانت ملابس العامة من الكتان أما الأغنياء والفرعون ملابسه من الحرير المستورد من فينيقيا "سوريا حاليًا" وتطرز بالذهب والفضة.

(٧) حرص الأباء على تعليم أبنائهم فى مصر القديمة .

لتعليمهم آداب السلوك والعلوم المختلفة وليكونوا أبناء صالحين .

(٨) إبداع المصرى القديم فى مجال الأدب .

لأن العوامل الطبيعية مثل نهر النيل والموقع المتميز والمناخ المعتدل ساعدت المصرى القديم على تفجير طاقته فى جميع المجالات.

(٩) وضع الكتابات الدينية مع الميت .

لحمايته ولمساعدته فى الحساب .

(١٠) إهتمام المصرى القديم بعلم الحساب .

٢ - معرفة مساحة الأرض الزراعية

١ - استخدامه فى حياته اليومية

٤ - معرفة مواسم الزراعة

٣ - معرفة كمية المحصول

٦ - تنظيم مياه النيل .

٥ - المعاملات التجارية

٧ - تسجيل رواتب الجند والموظفين .

(١١) براعة الفراعنة فى التحنيط والفنون والعمارة .

بسبب تقدمهم فى علم الكيمياء والطب (التحنيط) وفى علم الهندسة (العمارة والفنون)

(١٢) تقدم المصريين فى علم الطب .

لأنها من المهن ذات التقدير والاحترام وقد برعوا فيها وتوصلوا إلى :

١- تشخيص الأمراض وعلاجها .

٢- كان يوجد أطباء للعيون والأسنان والباطنة والجراحة .

٣- توصلوا لفكرة التحنيط لإيمانهم بعقيدة البعث والخلود .



الدراسات الإجتماعية

الصف الأول الإعدادى

السؤال الثالث :- أكمل العبارات الآتية :

- ١- وقعت مصر تحت سيطرة الليبيين ، الآشوريين ، الفرس قبل مجيء الاسكندر الأكبر.
- ٢- ولد الإسكندر الأكبر فى إقليم مقدونيا بشمال بلاد اليونان .
- ٣- تولى الأسكندر الحكم وهو فى سن ٢٠ من عمره .
- ٤- ظلت مصر تحت حكم الفرس حتى عام ٣٣٢ ق.م
- ٥- قام الأسكندر بزيارة معبد الإله بتاح فى منف والإله أمون فى واحة سيوة .

السؤال الرابع : بم تفسر

- ١- ترحيب المصريين بالأسكندر الأكبر .

- ١- لاعتقادهم بأنه جاء ليحررهم من الاحتلال الفارسى .
- ٢- معرفتهم بالأغريق الذين عاشوا فى مصر كجنود مرتزقة .
- ٢- زيارة الأسكندر لمعبدى بتاح وأمون .
- للتقرب من المصريين وكسب ودهم وإظهار احترامه للديانة المصرية القديمة .
- ٣- يلقب الأسكندر الأكبر بهذا الاسم .
- لأنه من أعظم الفاتحين حيث غزا معظم أجزاء العالم القديم .
- ٤- تأسيس الأسكندر الأكبر لمدينة الإسكندرية .
- ١ - تخليدا لإسم الأسكندر .
- ٢ - لتكون عاصمة لمصر .
- ٣ - لتكون مركز لنشر الحضارة الإغريقية .
- ٤ - لتكون قاعدة بحرية يدعم بها سيطرته على البحر المتوسط .
- ٥- اتجاه معظم الدول فى العصر القديم لإحتلال مصر .
- طمعا فى الاستيلاء على خيراتها حتى أصبحت كل دولة تنشئ بناء إمبراطورية تتجه إلى مصر
- ٦- تميز الأسكندر بالقدرة على القيادة .
- لأنه تدرب على شئون الحكم على يد والده لذلك اكتسب منه حدة العقل والقدرة على القيادة .