

بِسْمِ اللَّهِ الرَّحْمَنِ الرَّحِيمِ

وما أوتيتم من العلم إلا قليلا

بِسْمِ اللَّهِ الرَّحْمَنِ الرَّحِيمِ

بيانات الطالب

الاسم :
المدرسة :
المجموعة :



اهدي هذا العمل الي روح أبي العزيز تغمده الله برحمته .
(اللهم آمين)
واهديه ايضا الي أمي العزيزة بارك الله لي فيها
واطال في عمرها
(اللهم آمين)
وأرجو أن يبارك الله في هذا العمل ابتغاء مرضاته

الدرس التمهيدي : الدراسات الاجتماعية وادواتها

❖ في هذا العام سوف نتعرف علي مادة شيقة جديدة وهي مادة " **الدراسات الاجتماعية** " و تساعدنا في معرفة (اشكال سطح مصر – الاحوال المناخية – تاريخنا المجيد – علاقتنا بالدول الأخرى) ولكن !!!! ما هي الادوات التي تساعدنا في تعلم الدراسات الاجتماعية :

س : ما هي الأدوات التي تستخدم في تعلم الدراسات الاجتماعية ؟



(١) كتب ومكتبات (اطلس) .

(٢) رحلات وزيارات .

(٣) كمبيوتر وانترنت .

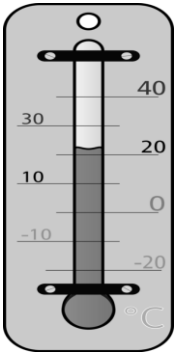
(٤) خرائط .

(٥) نماذج كرات ارضية

(٦) أدوات القياس ، مثل : (الترمومتر – دوايرة الرياح)

❖ يستخدم الترمومتر في قياس (درجة الحرارة)

❖ تستخدم دوايرة الرياح في تحديد (اتجاه الرياح)



أحمل

الاطلس :

هو مجموعة من الخرائط بمختلف انواعها لأي مكان فوق سطح الارض

والآن لنتعرف علي (الخريطة) كأحد الادوات المستخدمة في تعلم الدراسات الاجتماعية
خريطة : هي رسم توضيحي لجزء من سطح الأرض باستخدام مجموعة من الرموز والالوان ومقياس رسم معين .

تعريف الصورة : هي لقطة لجزء من سطح الأرض باستخدام آلة تصوير حيث تظهر الاشياء في الصورة كما هي بالحقيقة .



س : ما هي عناصر ومكونات الخريطة ؟

في خريطة ان تحتوي علي ((اربعة عناصر)) اساسية وهي :-

٤- مقياس الرسم

٣- اتجاه الشمال

٢- مفتاح الخريطة

١- عنوان الخريطة

اولا : عنوان الخريطة

تعريفه : يوضح ما تحتويه الخريطة من بيانات

س : بم تفسر : أهمية وجود عنوان الخريطة ؟ ج : يوضح ما تحتويه الخريطة من بيانات

س : ماذا يحدث اذا : لم يوجد عنوان الخريطة ؟ ج : لم يوضح ما تحتويه الخريطة من بيانات

ثانيا : مفتاح الخريطة ((دليل الرموز والألوان))

تعريفه : هو مستطيل أو مربع يوجد في أحد أركان الخريطة

ويحتوي علي مجموعة من الرموز والألوان

س : بم تفسر : أهمية وجود مفتاح الخريطة ؟ = س : أهمية وجود دليل الرموز والألوان ؟

ج : يساعدنا على فهم الخريطة وقراءتها


س : ماذا يحدث اذا : لم يوجد مفتاح الخريطة ؟

ج : لا نستطيع فهم الخريطة ولا قراءتها

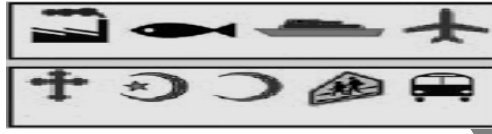
اكمل

❖ من امثلة الرموز المستخدمة في الخريطة (رسوم - ألوان - اشكال هندسية)


(٣) ألوان



(٢) رسوم ورموز :



(١) أشكال هندسية :



ثالثا : اتجاه الشمال

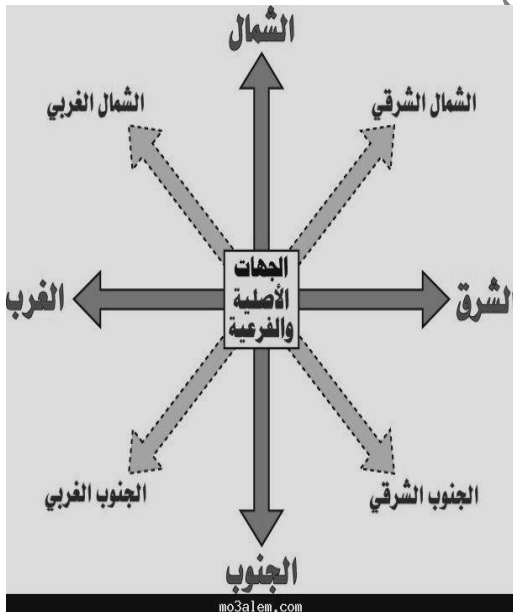
تعريفه : هو سهم يرسم في أحد أركان الخريطة ويشير دائما إلى اتجاه الشمال

س : بم تفسر : أهمية وجود اتجاه الشمال ؟ = س : أهمية وجود سهم في الخريطة ؟

ج : يساعدنا علي تحديد باقي الاتجاهات الأصلية الأربعة و الفرعية الأربعة.

س : ماذا يحدث اذا : رسمت الخريطة بدون اتجاه شمال ؟ = لم يتم تحديد اتجاه الشمال ؟

ج : لا نستطيع تحديد الاتجاهات على الخريطة سواء كانت أصلية أو فرعية



الجهات الفرعية (٤)

توجد بين الجهات الاصلية وهي:

(١) **الشمال الشرقي :**

يقع بين الشمال والشرق .

(٢) **الشمال الغربي :**

يقع بين الشمال والغرب .

(٣) **الجنوب الغربي :**

يقع بين الجنوب والغرب .

(٤) **الجنوب الشرقي :**

يقع بين الجنوب والشرق .

الجهات الأصلية (٤)

(١) **لشمال**

يوجد في (الأعلى)

(٢) **لجنوب**

يوجد في (الاسفل)

(٣) **لشرق**

يوجد في (اليمين)

(٤) **لغرب**

يوجد في (اليسار)



❖ اتجاه الشمال يقابله اتجاه (الجنوب)
❖ اتجاه الشرق يقابله اتجاه (الغرب)
❖ كل اتجاه فرعي يقع بين اتجاهين أصليين

**ملحوظات
قلبوؤات**

رابعاً : مقياس الرسم

تعريفه : هو النسبة بين المسافة على الخريطة وما يقابلها على الطبيعة .

س : بم تفسر : أهمية مقياس الرسم في الخريطة ؟

ج : يساعد علي معرفة النسبة بين المسافة علي الخريطة وما يقابلها علي الطبيعة .

س : ماذا يحدث اذا : رسمت الخريطة بدون مقياس الرسم ؟

ج : لا نستطيع معرفة النسبة بين المسافة علي الخريطة وما يقابلها في الطبيعة .

أنواع مقياس الرسم : (١) **مقياس رسم كتابي :** ← كل ١ سنتيمتر = ٢٠ كيلو متر

(٢) **مقياس رسم بياني :** ← (٢٠٠٠٠ : ١)

(٣) **مقياس رسم خطي :** ←



س : بم تفسر : أهمية الخريطة في حياتنا ؟

ج : ١ - تساعدنا في تحديد الاماكن وموقعها

٢ - تساعد المعلم في الشرح

٣ - تساعد التلميذ في المذاكرة .

ملحوظة

❖ **لا توجد خريطة بدون مقياس رسم أو عنوان خريطة أو مفتاح خريطة أو اتجاه شمال**



الوحدة الاولى : الطبيعة في بلدي الدرس الاول : موقع مصر واهميتها

أحمل

❖ يتكون العالم من (سبع) قارات تتمثل في ((اليابس))

❖ تم تقسيم قارات العالم الي قسمين هما :-

① قارات العالم القديم ② قارات العالم الجديد

أولاً: قارات العالم القديم

❖ تشمل قارات العالم القديم ثلاث قارات هي : ① آسيا ② إفريقيا ③ أوروبا .

س : بم تفسر : تسمى قارات (آسيا - إفريقيا - أوروبا) بقارات العالم القديم ؟

ج : لان الانسان سكن فيها وعمرها منذ القدم .

ثانياً: قارات العالم الجديد

❖ تشمل اربع قارات هي : ① أمريكا الشمالية ② أمريكا الجنوبية ③ أستراليا ④ أنتاركتيكا

س : بم تفسر : تسمى قارات (الأمريكتين وأستراليا وأنتاركتيكا) بقارات العالم الجديد ؟

ج : لان الانسان اكتشفها وعمرها حديثاً

تعريف القارة : هي مساحة واسعة من اليابس تضم عدداً من الدول بداخلها .

اولاً :- تحديد موقع مصر :

❖ تتوسط مصر ثلاث قارات العالم القديم هي : (آسيا - إفريقيا - أوروبا) .

❖ تقع مصر في الركن (الشمالي الشرقي) من قارة (إفريقيا) .

❖ تطل مصر على بحرين من أهم بحار العالم هما : البحر الأحمر شرقاً - البحر المتوسط شمالاً

❖ زادت اهمية موقع مصر بعد حفر (قناة السويس)

تعريف الموقع الجغرافي :

هو موقع الدولة او القارة بالنسبة للاماكن المحيطة بها

س : بم تفسر : أهمية موقع مصر الجغرافي ؟

(١) تتوسط مصر ثلاث قارات العالم القديم (آسيا - إفريقيا - أوروبا)

(٢) تطل مصر على بحرين من أهم بحار العالم البحر الأحمر شرقاً والبحر المتوسط شمالاً

(٣) وجود قناة السويس التي زادت من اهمية موقع مصر وربطت بين البحرين الاحمر والمتوسط

س : ما النتائج المترتبة علي : أهمية موقع مصر الجغرافي بين دول العالم ؟

ج : زادت أطماع الدول الاستعمارية في مصر للسيطرة عليها

س : بم تفسر : أهمية حفر قناة السويس ؟ = س : ما نتائج : حفر قناة السويس ؟

ج : ربطت بين البحر الأحمر والبحر المتوسط و زادت من أهمية موقع مصر

س : بم تفسر : زادت الاطماع الاستعمارية في السيطرة على مصر منذ القدم ؟

ج : بسبب اهمية موقع مصر الجغرافي و للسيطرة على طرق التجارة في مصر .

الدرس الثاني: الحدود الجغرافية لمصر

لكل دولة في العالم حدود تميزها وتفصلها عن جيرانها وتحفظ لها حقوقها

أنواع الحدود :

(١) حدود طبيعية	(٢) حدود بشرية
التعريف : هي فواصل طبيعية تفصل بين الدول . الأمثلة : (الجبال - المسطحات المائية) .	التعريف : هي فواصل من صنع الإنسان تفصل بين الدول

حدود مصر السياسية والادارية :



❖ أولا : الحدود السياسية لمصر : ((الدولية))

تعريفها : هي فواصل تفصل بين الدول المتجاورة وقد تكون طبيعية او بشرية

١- البحر الأحمر وخليج العقبة ((حد طبيعي))	الحدود الشرقية لمصر
٢- دولة فلسطين المحتلة ((حد بشري))	
دولة ليبيا العربية الشقيقة ((حد بشري))	الحدود الغربية لمصر
البحر المتوسط . ((حد طبيعي))	الحدود الشمالية لمصر
جمهورية السودان الشقيقة ((حد بشري))	الحدود الجنوبية لمصر

س : بم تفسر : لا توجد مشكلات سياسية بين مصر وجيرانها علي الحدود ؟

ج : لان حدود مصر واضحة ومميزة ومعترف بها دوليا .

س : ماذا يحدث اذا : لم تطل مصر علي البحر الاحمر و البحر المتوسط ؟

ج : ١- لم توجد في مصر حدود طبيعية

٢- عدم وجود قناة السويس في مصر

س : بم تفسر : أهمية حدود مصر الطبيعية ؟

ج : ساعدت علي حماية مصر من الاطماع الاستعمارية



❖ ثانياً : الحدود الادارية لمصر : « الداخلية »

تعريفها : هي فواصل داخل الدولة تفصل بين محافظات.

- ❖ يبلغ عدد محافظات مصر حوالي (٢٧ محافظة)
- ❖ عاصمة جمهورية مصر العربية هي (مدينة القاهرة)
- ❖ يختلف رمز الحدود السياسية علي الخريطة عن رمز الحدود الادارية



الدراسات الاجتماعية مادة لذيدة و ١٠٠ ال ١٠٠

فيها تجري وكمات نلعب ،، لكن محتاجة مذاكرة شوية



الدرس الثالث: سطح مصر وتنوعه

تعريف السطح : هو شكل الأرض بما تضمه من مرتفعات (جبال - هضاب - تلال) .

ومنخفضات ، سهول (ساحلية - فيضية) .



س : بم تفسر : يتميز سطح مصر بالتنوع ؟

ج : بسبب اتساع مساحة مصر والتي تضم العديد من أشكال السطح .

❖ تنقسم اشكال السطح في مصر الي نوعين هما : (اليابس - الماء)

أكمل

اولا: اشكال سطح اليابس في مصر

١- الجبال ٢- الهضاب ٣- السهول ٤- المنخفضات ٥- الجزر ٦- اشباه الجزر

الشكل	التعريف	الامثلة
١- الجبال	هي أرض شديدة الارتفاع ولها قمة شديدة الانحدار	١- جبال البحر الاحمر (ساحل البحر الاحمر) ٢- جبل سانت كاترين : (في جنوب سيناء) ٣- جبل العوينات : (جنوب غرب مصر)
٢- الهضاب	هي مساحة واسعة من الارض مرتفعة مستوية أو شبه مستوية	١- هضبة الجلف الكبير : (الصحراء الغربية) ٢- هضبة التيه : (في شبه جزيرة سيناء)
٣- السهول الساحلية	مساحة من الأرض مستوية تمتد علي طول ساحل البحر .	١- السهول الساحلية علي البحر المتوسط ٢- السهول الساحلية علي البحر الاحمر
٤- السهول الفيضية	مساحة من الأرض مستوية قليلة الارتفاع تتكون من رواسب الانهار	❖ تتمثل في الاراضي الممتدة بطول وادي النيل والدلتا
٥- المنخفض	هو أرض منخفضة عما حولها	❖ مثل منخفض القطارة في الصحراء الغربية
٦- الجزر	مساحة من اليابس تحيط بها المياه من جميع الجهات	❖ مثل جزيرة شدوان في (البحر الاحمر)
٧- اشباه الجزر	مساحة من اليابس تحيط بها المياه من ثلاث جهات فقط	❖ مثل شبه جزيرة سيناء (بوابة مصر الشرقية)



ثانيا : اشكال سطح الماء في مصر

٥- المحيط

٤- الانهار

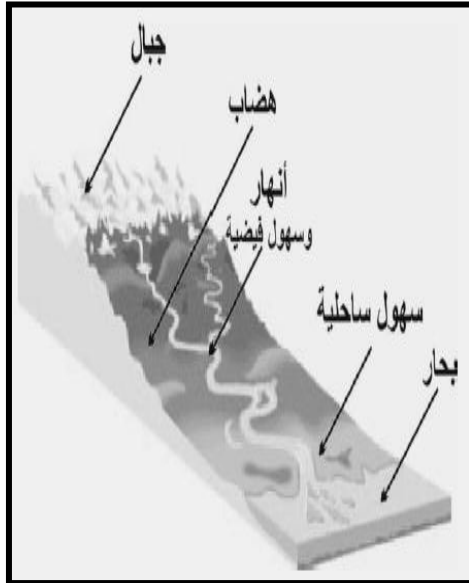
٣- الخلجان

٢- البحيرات

١- البحار

الشكل	التعريف	الامثلة
١- البحار	هي مساحة من الماء المالح أصغر من المحيط	١- البحر المتوسط : (شمالا) ٢- البحر الاحمر : (شرقا)
٢- البحيرات	هي مساحة صغيرة من الماء المالح او العذب يحيط بها اليابس من جميع الجهات	١- بحيرة عذبة : (بحيرة ناصر) ٢- بحيرة مالحة : (بحيرة قارون - البردويل - المنزلة - البرلس - ادكو - مريوط)
٣- الخلجان	هو امتداد الماء المالح داخل اليابس	١- خليج السويس ٢- خليج العقبة { علي البحر الاحمر
٤- الانهار	هو مجري مائي عذب	❖ مثل (نهر النيل) اطول انهار العالم
٥- المحيط	مساحة واسعة من الماء المالح ذات اعماق كبيرة	❖ مثل (المحيط الهادي)

لكل شكل من أشكال السطح في مصر لون يميزه علي الخريطة



اللون البني	يدل علي المرتفعات (جبال - هضاب - تلال ...)
اللون الاصفر	يدل علي المناطق متوسطة الارتفاع (الهضاب ..)
اللون الاخضر الداكن	يدل علي المناطق المنخفضة (المنخفضات)
اللون الاخضر	يدل علي السهول
اللون الازرق	يدل علي المسطحات المائية (البحار - الانهار ..)

- ❖ اعلي قمة جبلية في مصر (جبل سانت كاترين) في جنوب سيناء
- ❖ اكبر المنخفضات في مصر (منخفض القطارة) في الصحراء الغربية
- ❖ تنتشر (المرتفعات) في الصحراء الشرقية .
- ❖ تنتشر (المنخفضات = الواحات) في الصحراء الغربية .

ملحوظات

قلبوظات

الدرس الرابع: المناخ والنبات الطبيعي في مصر

اولا : مناخ مصر



١- ما هو الفرق بين الطقس والمناخ :-

تعريف المناخ :

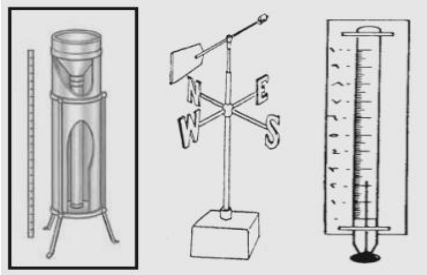
هو دراسة حالة الجو (حرارة - رياح - امطار) خلال فترة زمنية طويلة (شهر - فصل - سنة)

تعريف الطقس :

هو دراسة حالة الجو (حرارة - رياح - امطار) خلال فترة زمنية قصيرة (يوم - ثلاثة ايام)

٢- عناصر المناخ :-

١- الحرارة	٢- الرياح	٣- الامطار
تقاس بالترمومتر	تحدد بدوارة الرياح	تقاس بمقياس المطر



٣- مناخ مصر :-

في الصيف	مناخ مصر حار علي جميع انحاء الجمهورية جاف لا تسقط به الامطار
في الشتاء	مناخ مصر معتدل وتسقط به الامطار القليلة علي السواحل الشمالية

٤- اهمية دراسة الطقس والمناخ :-

س : اهمية دراسة الطقس ؟	(١) تحديد انواع الملابس التي نرتديها (٢) ضمان سلامة السفر البري والبحري والجوي
س : اهمية دراسة المناخ ؟	(١) تحديد انواع المحاصيل الزراعية . (٢) تحديد مواقع الصناعات

ثانيا : النبات الطبيعي والحيوان البري

تعريف النبات الطبيعي : هو النبات الذي ينمو طبيعياً دون تدخل الانسان

❖ من امثلة النبات الطبيعي (الصبار - التين الشوكي - الخروع - الكافور)

س : بم تفسر : قلة النبات الطبيعي في مصر ؟ = س : بم تفسر : عدم وجود غابات في مصر ؟



ج : بسبب قلة الامطار الشتوية في مصر

س : اهمية النبات الطبيعي في مصر ؟

ج : له فوائد طبية ويدخل في صناعة الادوية

تعريف الحيوانات والطيور البرية : هي الحيوانات والطيور التي لا تربي في المنازل والحظائر


❖ تعيش الحيوانات والطيور البرية في مصر في المناطق البعيدة سواء الصحراوية او الزراعية

الوحدة الثانية : السكان في بلدي . الدرس الاول : نمو السكان في مصر .

اولا : التعداد السكاني :

تعريف التعداد السكاني: هو عملية تهدف إلى حصر كل السكان والتعرف علي

أعدادهم وتركيبهم وتصنيفهم في وقت وزمن محدد .



س : بم تفسر : أهمية التعداد السكاني في مصر ؟

- (١) تحديد احتياجاتنا من المدارس و المستشفيات و الاراضي الزراعية و المصانع.....
- (٢) التنبؤ بأعداد السكان في المستقبل . (علل) ج : للتخطيط لهذا المستقبل تخطيطاً سليماً

- (١) مصر من أقدم الدول التي نفذت نظام التعداد السكاني .
- (٢) أجرى أول تعداد سكاني في مصر في عام ١٨٨٢ م .
- (٣) تقوم مصر بعمل تعداد لسكانها مرة كل ١٠ سنوات .
- (٤) أجرى آخر تعداد سكاني في مصر في عام ٢٠٠٦ م

ملحوظات
قلبوذات

ثانيا : النمو السكاني في مصر :

س : بم تفسر: تعتبر مصر من الدول التي تعاني من إرتفاع نسبة السكان بشكل كبير ؟

س : بم تفسر: ارتفاع النمو السكاني في مصر ؟

ج : بسبب ارتفاع عدد المواليد وانخفاض عدد الوفيات والهجرة .

س : بم تفسر: يختلف نسبة النمو السكاني في مصر من محافظة إلى أخرى ؟

ج : بسبب الزيادة الطبيعية والهجرة .

تعريف الزيادة الطبيعية :

هي الفرق بين عدد المواليد و عدد الوفيات

أو هي ارتفاع نسبة المواليد وانخفاض نسبة الوفيات .



ثالثا : الهجرة :

تعريف الهجرة : هي انتقال الأفراد من مكان إلى آخر داخل الدولة او خارجها .

أنواعها : (١) هجرة داخلية : هي انتقال الأفراد من مكان إلى آخر داخل حدود الدولة

(٢) هجرة خارجية : هي انتقال الأفراد من دولة إلى أخرى .



س : بم تفسر : أسباب الهجرة ؟

ج : (١) للبحث عن فرص عمل أفضل .

(٢) بغرض التعليم .

س : قارن بين المحافظات الجاذبة للسكان والمحافظات الطاردة للسكان مع ذكر الامثلة :-

وجه المقارنة	المحافظات الجاذبة للسكان	المحافظات الطاردة للسكان
التعريف	هي المحافظات التي تستقبل المهاجرين .	هي المحافظات التي يخرج منها سكانها
أمثلة	القاهرة - الإسكندرية	محافظات (الصعيد - الدلتا) .

س : بم تفسر : تعتبر محافظات (القاهرة والإسكندرية) من المحافظات الجاذبة للسكان ؟

ج : بسبب توافر فرص العمل و الخدمات

س : بم تفسر : تعتبر محافظات (الصعيد والدلتا) من المحافظات الطاردة للسكان ؟

ج : بسبب تناقص فرص العمل و الخدمات .

س : ما النتائج المترتبة علي : الهجرة الداخلية من الريف الي المدن ؟

ج : ادي ذلك الي : ١ - ازدحام المدن بالسكان ٢ - ظهور العشوائيات .

س : بم تفسر : ازدحام المدن وظهور العشوائيات ؟

ج : بسبب الهجرة من الريف الي المدن



اكمل ❖ تتأثر اعداد السكان بعدة عوامل منها (الزيادة الطبيعية - الهجرة - الحروب)

تعريف العشوائيات : هي مناطق ظهرت بدون تخطيط من الدولة وتقل فيها الخدمات



الدرس الثاني: توزيع السكان علي خريطة مصر

ركز زرز كويس اوي وفتح عينيه ☺☺

- ❖ لا يتوزع السكان بالتساوي علي ارض مصر = (يختلف توزيع السكان علي ارض مصر)
- ❖ يتركز معظم سكان مصر في (الوادي - الدلتا) اي ما يقرب من ٤٠% من مساحة مصر
- ❖ ٩٦% من مساحة مصر غير مأهولة بالسكان (غير مسكونة)
- س : بم تفسر : يختلف توزيع السكان في مصر من مكان الي اخر ؟
- ج : بسبب (توافر المياه العذبة - درجات الحرارة - نوع النشاط - توافر الخدمات)
- ❖ توزيع السكان في مصر :-

اولا : مناطق مزدهمة بالسكان



اكمل ❖ يزدحم السكان في (الوادي - الدلتا)

س : بم تفسر : ازدهام (تركز) السكان في الوادي والدلتا ؟

- ج : بسبب توافر ١ - المياه العذبة ٢ - التربة الخصبة ٣ - سهولة المواصلات ٤ - استواء السطح

ثانيا : مناطق متوسطة السكان

اكمل ❖ من المناطق متوسطة السكان (ساحل البحر المتوسط - ساحل البحر الاحمر)

س : بم تفسر : وجود اعداد متوسطة من السكان علي ساحل البحر المتوسط ؟

- ج : بسبب ١ - قيام حرفة الزراعة علي مياه الامطار ٢ - لانتشار حرفة الصيد والعمل بالقري السياحية والموانئ
- س : بم تفسر : وجود اعداد متوسطة من السكان علي ساحل البحر الاحمر ؟
- ج : بسبب ١ - لاستخراج البترول والمعادن . ٢ - للعمل بالقري السياحية والموانئ

ثالثا : مناطق قليلة السكان

اكمل ❖ تقل أعداد السكان في (الصحراء الغربية - شبه جزيرة سيناء)



س : بم تفسر : وجود عدد قليل من السكان في الصحراء الغربية ؟

- ج : بسبب : ١ - للقيام بنشاط رعي الحيوانات ٢ - للعمل بالزراعة علي المياه الجوفية بالواحات .

- س : بم تفسر : وجود عدد قليل من السكان في شبه جزيرة سيناء ؟
 ج : بسبب : ١ - للعمل بالزراعة في الساحل الشمالي علي مياه الامطار الشتوية .
 ٢ - لوجود المناطق السياحية والاثريه (دير سانت كاترين)

رابعاً : مناطق نادرة السكان

اكمل

❖ يندر وجود السكان في (المناطق الصحراوية والجبلية)
 مثل (الوادي الجديد - جنوب سيناء)

- س : بم تفسر : يندر وجود السكان في المناطق الصحراوية والجبلية ؟
 ج : بسبب : ١ - وعورة السطح . ٢ - صعوبة الانتقال ٣ - قلة موارد المياه

خلي بالك :-


❖ هناك علاقة قوية بين توزيع السكان والتضاريس في مصر (✓)

- س : بم تفسر : تعتبر القاهرة اعلي المحافظات المصرية كثافة سكانية ؟
 ج : لانها ١ - محافظة مصر ٢ - توافر البنوك والوزارات والشركات والمصانع بها
 س : بم تفسر : تهدف الدولة الي اعادة توزيع السكان في مصر ؟
 ج : لتقليل الازدحام في الوادي والدلتا



والله اعلم

مناكرة -





الوحدة الرابعة : نشأة الحضارة المصرية القديمة الدرس التمهيدي : معلومات تاريخية

الإنسان قبل معرفة الكتابة :

اكمل

❖ قسم المؤرخون تاريخ الإنسانية إلى قسمين هما :-

١- عصور ما قبل التاريخ ٢- العصور التاريخية

❖ بدأ التاريخ عندما توصل الإنسان قديما الي معرفة (الكتابة)
❖ تم التعرف علي أخبار الذين عاشوا قبل معرفة الكتابة من خلال :-
(ما تركوه من آثار - الحفريات - الأدوات المستخدمة)

تعريف الآثار : هي كل ما تركه لنا الاجداد من أشياء عظيمة ولها قيمة مثل (الاهرامات)

تعريف الحفريات : هي بقايا النباتات والحيوانات الميتة منذ آلاف السنين

اولا : عصور ما قبل التاريخ

« تعريفها :- هي الفترة الزمنية التي عاش فيها الإنسان قبل معرفة الكتابة

اكمل

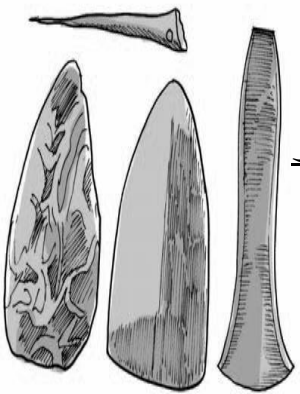
❖ تنقسم عصور ما قبل التاريخ الي :

● عصر المعادن

● عصر حجري حديث

① عصر حجري قديم

(١) العصر الحجري القديم :



في العصر الحجري القديم صنع الإنسان أدواته من الحجر
استخدم الإنسان الحجر كما هو أو حاول نحته ببساطة

اكمل

(٢) العصر الحجري الحديث :



في العصر الحجري الحديث صنع الإنسان أدواته من الحجر
ولكنه تعلم نحت الحجارة بدقة.

اكمل

في العصر الحجري الحديث توصل الإنسان الي صناعة
(الاواني الفخارية) واستخدمها في (حفظ الطعام)

(٣) عصر المعادن :

اكمل

❖ ينقسم عصر المعادن الي:

① عصر النحاس ② عصر الحديد

(أ) عصر النحاس :

في هذا العصر صنع الإنسان أدواته من معدن النحاس
استخرج المصري القديم النحاس من شبه جزيرة سيناء

(ب) عصر الحديد :

في هذا العصر صنع الإنسان أدواته من معدن الحديد .
فأصبحت أكثر صلابة



معرفة الانسان للكتابة :

ثانيا : المصور التاريخية

« تعريف العصور التاريخية: هي الفترة الزمنية التي عاش فيها الإنسان بعد معرفة الكتابة

اكمل

❖ توصل المصري القديم الي معرفة (الكتابة الهيروغليفية)

تعريف الكتابة الهيروغليفية:

هي الكتابة التي استخدمها المصري القديم لتسجيل مظاهر الحياة المختلفة على

جدران المعابد و اللوحات الحجرية و اللوحات الخشبية

س : بم تفسر : للمصريين القدماء فضل كبير على الإنسانية ؟

ج : لأنهم توصلوا إلى معرفة الكتابة الهيروغليفية

س : أهمية الكتابة الهيروغليفية ؟


ج : استخدمها المصريون القدماء لتسجيل احداثهم واخبارهم وما توصلوا اليه من تقدم في

كافة المجالات مثل : (الطب - الهندسة - الفلك - الكيمياء - الادب -)

مراحل تطور الكتابة :

(١) التعبير عن الشيء برسمه في شكل صور (إنسان - حيوان - طيور - أفرح - مناسبات)

(٢) ثم تحولت الي الحروف الهجائية (اللغة الهيروغليفية) .



الدرس الأول: استقرار الإنسان المصري في الوادي

أكمل

❖ مرت حياة الإنسان المصري القديم بمرحلتين هما:

١- مرحلة التنقل والترحال ٢- مرحلة الاستقرار

أولاً: حياة التنقل والترحال

أكمل

❖ كان الإنسان في العصور القديمة يعيش فوق (الهضاب) ويسكن (الكهوف)

وكانت حياته (غير مستقرة) مملوءة (بالخوف والقلق)

س: بم تفسر: كان الإنسان في العصور القديمة دائم التنقل والترحال؟

ج: للبحث عن الغذاء وصيد الحيوانات للارتفاع بها.

❖ اكتشف المصري القديم (النار) عن طريق الصدفة واستخدمها في:-

١- طهي الطعام ٢- التدفئة ٣- إبعاد الحيوانات المفترسة

أكمل

ثانياً: حياة الاستقرار

❖ نزل المصري القديم من فوق (الهضاب) إلى (وادي النيل) (بم تفسر)

ج: بسبب قلة المطر وحلول الجفاف فوق الهضاب

س: بم تفسر: استقرار المصري القديم في وادي النيل؟

ج: لرعاية المحاصيل الزراعية التي يقوم بزراعتها

س: ما النتائج المترتبة على: نزول المصري القديم إلى وادي النيل؟

ج: ١- عرف الإنسان المصري الزراعة واستأنس الحيوان

٢- بدأ في بناء المساكن من الطوب اللبن وغطى سقفها باليوس.

ثالثاً: نشأة القرى والمدن

❖ مع مرور الزمن كثرت المباني وظهرت القرى ثم المدن ثم الأقاليم

س: بم تفسر: اتجاه المصري القديم إلى بناء المساكن؟

ج: للإقامة فيها بالقرب من مناطق الزراعة وتكوين الأسرة.

س: ما النتائج المترتبة على: معرفة المصري القديم للزراعة؟ سؤال مهم جداً

ج: (١) الاستقرار في المكان (٢) بناء المساكن (٣) التعاون (٤) المسؤولية

(٥) الانتماء: شعور الإنسان بأنه جزء من المجتمع الذي يعيش فيه.

(٦) الولاء: شعور الإنسان بالحب للأرض التي عاش عليها.



ملحوظات قلبوظات

❖ تطورت حياة الإنسان فصنع :

- (١) الأدوات : استخدمها في الزراعة
- (٢) ملابسه : من الكتان و جلود الحيوانات .
- (٣) الأواني : من الفخار (واستخدمها في طهي الطعام وحفظه) .
- (٤) بعض التماثيل : من الطين و الصلصال .



المبارك في الدراسات الاجتماعية

الحقيقة المؤكدة ان الدراسات مش معقدة

اعداد :

الاستاذ : أحمد عبد ربه مبارك

الدرس الثاني: الوحدة بين اقاليم مصر القديمة

مراحل تحقيق الوحدة


١- المرحلة الاولى :

- ❖ بعد استقرار المصريين القدماء في وادي النيل بنى المساكن ثم كون القري ثم المدن
- ❖ اتخذت كل قرية وكل مدينة معبوداً لها من الطبيعة مثل (الشمس - النيل - الطيور)
- ❖ اتحدت القري و المدن وكونت الأقاليم
- ❖ كان لكل إقليم ((حاكم و عاصمه و جيش و معبود و شعار)) .
- ❖ اتحدت الأقاليم وكونت مملكتين هما :-

وجه المقارنة	مملكة الشمال	مملكة الجنوب
العاصمة	بوتو (قرب دسوق حالياً)	نخب (قرب إدفو حالياً)
لون التاج	التاج الأحمر . 	التاج الأبيض . 
الشعار	نبات البردى .	زهرة اللوتس
المعبود	ثعبان الكوبرا	انثى النسر

الوحدة الاولى للبلاد ((٢٤٢٢ ق.م)) :-

- ❖ قامت عدة محاولات لتوحيد مملكة الشمال ومملكة الجنوب في دولة موحدة حتي نجحت محاولة في عام (٢٤٢٢ ق . م) ،
- ❖ تم توحيد البلاد تحت سيطرة حكومة مركزية واحدة
- ❖ اتخذت الدولة الموحدة من مدينة (أون) (عين شمس حالياً) عاصمة لها .
- ❖ سرعان ما فشلت الوحدة الاولى وانقسمت البلاد مرة أخرى إلى مملكتين



٢- المرحلة الثانية :

الوحدة الثانية علي يد الملك " مينا " (٣٢٠٠ ق . م)

خرج الملك مينا من مدينة (طيبة) الأقصر حالياً ونجح في توحيد البلاد سنة ٣٢٠٠ ق . م

سجل الملك مينا انتصاره العظيم على لوحة ذات وجهين تعرف باسم (لوحة نارمر) .

لبس الملك مينا (التاج المزدوج) ولقب بلقب (صاحب التاجين - ملك الارضين)

س : بم تفسر : اهم اعمال الملك مينا ؟ اعتزاز المصريين بالملك مينا ؟

سهم جرد

(١) أسس الأسرة الفرعونية الأولى .

(٢) بنى مدينة (من - نفر) وجعلها عاصمة للبلاد وسماها العرب (منف)

(٣) قام بتكوين جيش قوي لحماية البلاد

(٤) قام بتكوين اول حكومة مركزية في مصر .

س : بم تفسر : بناء الملك مينا مدينة منف أو من نفر ؟


ج : لتكون عاصمة للدولة الموحدة .

س : بم تفسر : تكوين الملك مينا جيشاً قوياً ؟

سهم جرد

ج : لحماية وحدة البلاد والدفاع عنها .

تعريف الحكومة المركزية :-



هي تركيز السلطة في يد الحاكم ومعاونيه ومقرها العاصمة

س : ماذا يحدث اذا : لم يحترم الناس النظم والقوانين ؟

ج : سوف تنتشر الفوضى والصراعات بين الناس وتضيع الحقوق

س : بم تفسر : اطلق علي الملك مينا لقب (ملك الارضين - صاحب التاجين) ؟

ج : لأنه نجح في توحيد المملكتين وحكم الارضين ولبس التاجين الاحمر والابيض



الدرس الثالث: عوامل قيام الحضارة المصرية القديمة

تنقسم عوامل قيام الحضارة المصرية القديمة الى قسمين :

- ١- عوامل طبيعية : (نهر النيل - الموقع الجغرافي - المناخ - الموارد المعدنية)
- ٢- عوامل بشرية : (الوحدة - الجيش)

اولاً : العوامل الطبيعية لقيام الحضارة المصرية القديمة :

اولاً : نهر النيل :

الحضارة : هي كل ما انتجه عقل الانسان سواء كان ماديا او ادبيا

❖ هو السبب الأول والاساسي في قيام الحضارة المصرية القديمة حيث على ضفافه استقر الإنسان المصري قديماً و عرف الزراعة و تكونت الأسرة.

س : بم تفسر : أهمية نهر النيل لقيام الحضارة المصرية القديمة ؟

ج : لأنه ساعد علي قيام الحضارة المصرية القديمة و قيام الزراعة واستقرار الانسان وبناء المساكن التي كونت الاسرة .

❖ كان لنهر النيل مكانة عظيمة عند المصريين القدماء ولذلك كان المصري قديماً يحرص علي ((نظافة نهر النيل وعدم تلويثه)) . واعتبار تلويثه جريمة يعاقب عليها بعد الموت

ثانياً : الموقع الجغرافي

❖ تتمتع مصر بموقع متميز حيث تتوسط قارات العالم القديم (آسيا - إفريقيا - أوروبا)
❖ كما تطل مصر على بحرين مهمين هما : (البحر المتوسط - البحر الأحمر) .

س : بم تفسر : تتميز مصر بموقع جغرافي متميز ؟

ج : لأنها تتوسط قارات العالم القديم وتطل على البحرين المتوسط والأحمر

ثالثاً : المناخ

❖ أنعم الله على مصر بمناخ معتدل :

☀ في الصيف : حار جاف بدون امطار . ❄ في الشتاء : دافئ ممطر علي الاطراف الشمالية

س : ما النتائج المترتبة علي : تنوع مناخ مصر ؟

ج : ساعد علي تنوع المحاصيل الزراعية

س : ما النتائج المترتبة علي : جفاف مناخ مصر ؟

ج : ساعد علي بقاء الاثار سليمة .



رابعاً : الموارد الطبيعية

- ❖ أنعم الله على مصر بموارد طبيعية متنوعة ساعدت على قيام صناعات متنوعة
- ❖ في مصر معادن كثيرة (النحاس - القصدير - البرونز - الذهب - الفضة - الرصاص) وبها صخور متنوعة : (رخام - جرانيت) .

س : بم تفسر : قيام الصناعات المتنوعة في مصر ؟ = س : تنوع الصناعات في مصر القديمة ؟

ج : بسبب تنوع الموارد الطبيعية مثل المعادن : النحاس والقصدير والبرونز والذهب الصخور الاقتصادية : الرخام والجرانيت .

س : ما النتائج المترتبة علي : تنوع الموارد الطبيعية ؟

ج : ادي ذلك الي : تنوع الصناعات في مصر

📖 ثانياً : العوامل البشرية لقيام الحضارة المصرية القديمة 📖

أولاً : الوحدة

س : ما النتائج المترتبة علي : قيام الوحدة بين الأقاليم المصرية ؟ = أهمية قيام الوحدة ؟

ج : ساعدت علي نشر الأمن والطمأنينة وانتهاء الصراعات بين الناس .



أولاً : الجيش

س : بم تفسر : أهمية وجود جيش قوى ؟

ج : لحماية وحدة البلاد والدفاع عنها ضد الاخطار .



الله أكبر

الحمد لله

سبحان الله